

Шифр участника _____

Задания для обучающихся

Время выполнения заданий – 60 минут

Максимальное количество баллов – 100

Задание 1. Верны ли следующие утверждения? («Да» - «Нет»).

Ответы внесите в таблицу. *За каждый правильный ответ – 2 балла, максимальный балл за задание – 16.*

1. Население Индии в древности состояло из множества каст
2. Солон знаменитый римский полководец
3. В средневековых университетах изучали богословие, медицину, экономику и право.
4. Мекка – главный религиозный цент мусульман
5. Дербент самый старый город на территории современной России
6. Путь «из варяг в греки» включал в себя реку Волгу
7. Княжество Тмутаракань входило в современную территорию Казахстана
8. Династия Каролингов была первой династией французских королей

1	2	3	4	5	6	7	8

Задание 2. Тестовые задания.

За каждый правильный ответ – 2 балла, максимальный балл за задание – 10.

2.1. Когда происходило Великое переселение народов?

- А) IV-VII в.в.
- Б) III-IV в.в.
- В) I-II в.в.

2.2. Укажите имя вождя, который возглавил франков в битве при Суассоне:

- А) Хлодвиг;
- Б) Атилла;
- В) Аларих.

2.3. Причины появления новых городов в средневековой Европе:

- А) успехи в хозяйстве;
- Б) отделение ремесла от сельского хозяйства;

ИСТОРИЯ
7 КЛАСС

В) правильно только Б);

Г) правильно А) и Б).

2.4. Когда произошёл распад Римской империи?

А) 410 г.

Б) 395 г.

В) 476 г.

2.5. Чьи культурные достижения унаследовала Византия?

А) античного мира и стран Востока;

Б) древних римлян и гуннов;

В) славян и скифов.

2.1.	2.2	2.3	2.4	2.5

Задание 3. Работа по карте. За каждый правильный ответ – 2 балла, максимальный балл за задание – 12.



3.1. Как называется государство, границы которого обозначены на представленной схеме жирной линией?

1. Новоассирийское царство
2. Арабский Халифат
3. Понтийское царство
4. Вавилонское царство

**ИСТОРИЯ
7 КЛАСС**

3.2. Укажите век, когда появилось государство, границы которого обозначены на схеме жирной линией.

1. III
2. IV
3. VII
4. IX

3.3. Назовите имя известного исторического деятеля, чьи последователи создали государство, границы которого обозначены на схеме жирной линией.

1. Мухаммед
2. Авиценна
3. Сулейман
4. Моисей

3.4. Напишите цифру, которой обозначено место битвы, положившей конец расширению территорий государства, обозначенного на схеме жирной линией, в Западной Европе.

3.5. Напишите год, когда произошла битва.

3.6. Назовите имя и прозвище руководителя войска, противостоящего войску государства, границы которого обозначены на представленной схеме жирной линией.

3.1.	3.2.	3.3.	3.4.	3.5.	3.6.

Задание 4.

За каждый правильный ответ – 2 балла, максимальный балл за задание – 8.

Установи соответствие между понятиями и их определениями.

1.	посад		ханская грамота, дававшая право русским князьям властвовать в своих землях
2.	ярлык		плата крестьянина продуктами владельцу феодальной вотчины
3.	натуральное хозяйство		торгово-ремесленное поселение вне городских стен, ставшее впоследствии частью города
4.	оброк		хозяйство, в котором продукты изготавливались для себя, а не на продажу

1	2	3	4

ИСТОРИЯ
7 КЛАСС

Задание 5. В каждой строке выберите слово лишнее по смыслу, объясните почему. За каждый правильный ответ - 2 балла. Максимальный балл за задание – 6.

1. Василий II Тёмный, Василий Косой, Дмитрий Шемяка, Василий III.
2. Успенский собор, Благовещенский собор, Софийский собор, Архангельский собор.
3. Рязань, Коломна, Владимир, Торжок, Новгород, Козельск.

Ответ:

1. _____

2. _____

3. _____

Задание 6. Вставьте пропущенные слова.

За каждый правильный ответ - 1 балла. Максимальный балл за задание – 7.

Большую поддержку московскому ополчению оказала православная церковь. По преданию, накануне битвы князь 1) _____ посетил 2) монастырь _____. Он получил благословление на борьбу с захватчиками пользовавшегося большим авторитетом на Руси основателя монастыря 3) _____. Отец 4) _____ отправил с князем монахов-богатырей 5) _____ и 6) _____, чтобы показать, что дело освобождения Родины свято даже для иноков, покинувших мирскую жизнь и давших клятву не брать в руки оружия. В результате битвы на 7) _____ поле была победа.

- | | |
|----------------|-------------------------------------|
| А) Дмитрий | Б) Сергей |
| В) Пересвет | Г) Троице-Сергиев, |
| Д) Ослябя | Е) Сергей Радонежский (Отец Сергей) |
| Ж) Иван Калита | З) Кочубея |
| К) Куликовом | Л) Невском |

1	2	3	4	5	6	7

ИСТОРИЯ
7 КЛАСС

Задание 7. Поработайте с рядами.

За правильный ответ - 2 балла. Максимальный балл за задание - 20.

Прокомментируйте какому историческому деятелю принадлежат слова и назовите точную дату этого события:

№	Историческая цитата	Дата события	Кому принадлежат слова
1	«Это будет мать городам русским».		
2	«Если повадится волк к овцам, то унесёт всё стадо, пока не убьют его».		
3	«Иду на вы».		
4	«Откуда есть пошла Русская земля, и кто в Киеве начал первым княжiti».		
5	«Дайте десятую часть от всего, что имеете в земле своей».		

Задание 8. Работа с иллюстрациями.

За каждый правильный ответ - 2 балла. Максимальный балл за задание – 16.

Прочитайте приведённые отрывки, повествующие о событиях из истории двух древнерусских городов.

А. А все жители были внутри острога, не осмеливаясь выступить против врагов; лишь скорбел каждый о судьбе своей, видя погибель свою, ибо ведь суздальцы и улицы поделили – какая какому городу достанется.







Б. В ту же зиму взяли враги город, и воеводу убили Филиппа Няньку за правоверную христианскую веру, а князя Владимира, сына Юрия, взяли в плен. А людей избili от старца до младенца, а город и церкви святые огню предали, и все монастыри и сёла сожгли, и, захватив много добра, ушли.

В таблице ответа напротив буквенного обозначения отрывка укажите название соответствующего города, выбрав его из приведённого списка.

Список городов: Киев, Владимир, Рязань, Москва, Смоленск, Полоцк, Новгород, Псков.

В третьей колонке таблицы укажите порядковые номера изображений храмов, которые находятся в каждом из указанных вами городов.

ИСТОРИЯ
7 КЛАСС

1		2	
3		4	
5		6	

Буквенное обозначение отрывка	Название города	Цифровые обозначения изображенных храмов
А		
Б		

ИСТОРИЯ
7 КЛАСС

Задание 9. Историческая задачка.

За каждый правильный ответ - 1 балл. Максимальный балл за задание – 5.

Загадки Алкуина. Следуя традициям англосакских школ, Алкуин любил применять в процессе обучения загадки. Подберите правильные ответы на вопросы Алкуина.

1) Что делает горькое сладким? (); 2) Что не утоляет человека? (); 3) Я видел, как мертвое родило живое и дыхание живого истребило мертвое (); 4) Я видел огонь, который не гаснет в воде (); 5) Кого нельзя видеть, не закрывши глаза? ().

Ответы: А) известь; Б) сон; В) голод; Г) огонь, возникающий от трения дерева; Д) прибыль; Е) мел; Ж) сахар; З) вода.

1	2	3	4	5